

ФИО Алимова Алина Игоревна

8-9 класс

ФИО учителя Резунова М.А.

Класс 9, Б

МБОУ «Средняя школа города Багратионовска»

Дата 18.10.2018.

Тестовые задания

На выполнение тестовых заданий олимпиады по технологии отводится 45 минут.

Работа включает двадцать заданий. К каждому заданию дается несколько ответов, из которых только один правильный.

За каждое верно выполненное задание начисляется один балл. Баллы, полученные за все выполненные задания, суммируются. Постарайтесь выполнить как можно больше заданий и набрать как можно больше баллов.

При выполнении заданий в таблице под ответами выполняемого вами задания (1 – 20) поставьте знак « x » в клеточку, буквенное обозначение которой соответствует букве выбранного вами ответа

1. Какой продукт не нужен для приготовления сырников:
а) творог; б) мука пшеничная; в) яйцо сырое; г) сыр.

Вопрос № 1	Вариант а	Вариант б	Вариант в	Вариант г
Ответ:				X

2. В школе скоро будет праздник, посвященный окончанию I четверти. Твой класс отвечает за фуршет для 7-8 классов. В 7 «А» учатся 27 человек, в 7 «Б» - 24 человека, в 8«А» - 23 человека, в 8 «Б» -25 человек, еще вы пригласили учителей (17 человек). Тебе поручили купить красивые салфетки. Сколько пачек нужно, если в пачке 25 салфеток, вы планируете по 2салфетки на человека, придут все ученики и приглашенные учителя
а) 5; б) 9; в) 10; г) 15.

Вопрос № 2	Вариант а	Вариант б	Вариант в	Вариант г
Ответ:			X	

3. В результате технического прогресса исчезла одна из перечисленных ниже профессий, человека заменил автомат. Какая?
а) повар; б) автомеханик; в) прачка; г) портной.

Вопрос № 3	Вариант а	Вариант б	Вариант в	Вариант г
Ответ:	X			

4. Какой из перечисленных продуктов является кисломолочным:
а) кефир; б) масло сливочное; в) джем. г) майонез;

Вопрос № 4	Вариант а	Вариант б	Вариант в	Вариант г
Ответ:			X	

5. Даны четыре вида бусин – темные треугольные, светлые квадратные, темные и светлые круглые. Таня решила собрать бусы по следующему рисунку:




Какая бусина будет следующей в бусах.

- а) светлая квадратная б) светлая круглая в) темная треугольная г) темная круглая

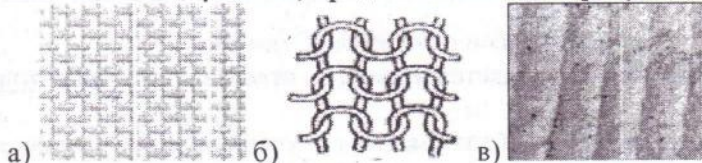
Вопрос № 5	Вариант а	Вариант б	Вариант в	Вариант г
Ответ:				X

6. Какому условному обозначению соответствует накладной шов:



Вопрос № 6	Вариант а	Вариант б	Вариант в	Вариант г
Ответ:			X	

7. Какой из материалов, представленных на рисунках, называется трикотажным полотном:



Вопрос № 7	Вариант а	Вариант б	Вариант в
Ответ:		X	

8. Из волокон какого происхождения изготавливают шелковые ткани?

- а) растительного; б) искусственного; в) животного; г) минерального.

Вопрос № 8	Вариант а	Вариант б	Вариант в	Вариант г
Ответ:			X	

9. Уменьшение размеров ткани под действием тепла и влаги называется:

- а) прочность; б) осыпаемость; в) усадка.

Вопрос № 9	Вариант а	Вариант б	Вариант в
Ответ:			X

10. Выберите самые тонкие нитки из предложенного списка:

- а) № 80 б) № 40 в) № 60 г) № 10

Вопрос № 8	Вариант а	Вариант б	Вариант в	Вариант г
Ответ:	X			

11. К основным горизонтальным линиям фигуры относят:

- а) линию шеи, середины переда, линию низа; б) линию талии, груди, середины спинки; в) линию шеи, бедер, низа.

Вопрос № 11	Вариант а	Вариант б	Вариант в
Ответ:		X	

12. Какой масштаб имеет линейка закройщика:

- а) М 1:1 б) М 1:2 в) М 1:4 г) М 1:10

Вопрос № 12	Вариант а	Вариант б	Вариант в	Вариант г
Ответ:	X		X	

13. По какой стороне фигуры снимают мерки:

- а) по левой; б) по правой; в) по обеим; г) не имеет значения.

Вопрос № 13	Вариант а	Вариант б	Вариант в	Вариант г
Ответ:	X			

14. Что такое прибавка:

- а) припуск на швы; б) дополнительная величина на свободу облегания швейного изделия; в) увеличение размера при измерении.

Вопрос № 14	Вариант а	Вариант б	Вариант в
Ответ:	X		

15. К какой группе швейных изделий относится ночная сорочка:

- а) плечевые; б) поясные.

Вопрос № 15	Вариант а	Вариант б
Ответ:	X	

16. Указать ткань, волокна которой имеют растительное происхождение:

- а) хлопок; б) вискоза; в) шерсть;

Вопрос № 16	Вариант а	Вариант б	Вариант в
Ответ:	X		

17. По рисунку определите вид рубахи:



- а) понева;
- б) косоворотка;
- в) зипун;

Вопрос № 17	Вариант а	Вариант б	Вариант в
Ответ:		X	

18. К гигиеническим свойствам тканей относятся:

- а) теплозащитность;
- б) гигроскопичность;
- в) прочность.

Вопрос № 18	Вариант а	Вариант б	Вариант в
Ответ:			X

19. В марте цена товара была повышена на 10%, а в июне снижена на 10%. Как изменилась цена-товара?

- а) повысилась;
- б) снизилась
- в) не изменилась.

Вопрос № 20	Вариант а	Вариант б	Вариант в
Ответ:			X

20. К какой конструкции по крою относится данная юбка?

- а) клинневая,
- б) прямая,
- в) коническая.





Вопрос № 19	Вариант а	Вариант б	Вариант в
Ответ:	X		

Практическая работа

Задание 1. Нарисуйте не менее 5 вариантов эскизов сувенирных изделий, которые Вы можете изготовить в школьной мастерской. Свои мысли оформите в виде звездочки-обдумывания.

Количество баллов – 20 (по 4 балла за каждый эскиз)

Задание 2. Зарисуйте 5 различных моделей юбок, дополнив их карманами, кокетками, рельефами, складками, оборками.




Количество баллов – 20 (по 4 балла за каждую модель)

20
all на обороте
→

Задание 1.




Брошюк




оригинал



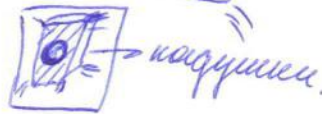
миленькое
подружка
(милотамминовне)



вязаные изделие
(шарф)



прихватки



надушки.



шортики

стойчатки

из соевых котх трубочек
из пласти, солен. теста т.д.



вязаные
шортики.



Handwritten notes and arrows on the left side of the page, including the word 'шорты' (shorts) and an arrow pointing upwards.

Тестовые задания

ФИО Колмаровой Валерии Алексеевны

ФИО учителя Федулова Н.А.

Класс 7 "А"

МБОУ «Средняя школа города Багратионовска»

Дата 18.10.18.

На выполнение тестовых заданий олимпиады по технологии отводится 1 час (45 минут).
 Работа включает двадцать заданий. К каждому заданию дается несколько ответов, из которых только один
правильный. За каждое верно выполненное задание начисляется один балл. Баллы, полученные за все
 выполненные задания, суммируются. Постарайтесь выполнить как можно больше заданий и набрать как
 можно больше баллов. При выполнении заданий в таблице под ответами выполняемого вами задания (1 – 20)
 поставьте знак « x » в клеточку, буквенное обозначение которой соответствует букве выбранного вами ответа

1. К Маше на день рождения пришли четыре подружки и принесли с собой большой торт. Как Маше следует нарезать торт?

а) разрезать его на пять кусочков, б) разрезать половину торта и, если он гостям понравится, разрезать оставшуюся половину до конца, в) нарезать весь торт, г) не подавать торт на стол, а съесть его потом самой

Вопрос № 1	Вариант а	Вариант б	Вариант в	Вариант г
Ответ:		X		

2. Укажите причины образования корочки на поверхности мяса при жарке:

а) образование новых вкусовых веществ, б) испарение влаги, в) карамелизация

Вопрос № 2	Вариант а	Вариант б	Вариант в
Ответ:		X	

3. Три одинаковых вареных яйца опустили одновременно в три стакана: с водой, с растительным маслом и с медом. В каком стакане яйцо быстрее достигнет дна?

а) в стакане с водой, б) в стакане с растительным маслом, в) в стакане с медом

Вопрос № 3	Вариант а	Вариант б	Вариант в
Ответ:	X		

4. Какой из перечисленных объектов может быть назван наноструктурой?

а) маковое зерно б) вязальный крючок в) молекула полиэтилена г) туфелька Дюймовочки

Вопрос № 4	Вариант а	Вариант б	Вариант в	Вариант г
Ответ:				X

5. Манку производят из:

а) овса, б) гречихи, в) пшеницы,

Вопрос № 5	Вариант а	Вариант б	Вариант в
Ответ:			X

6. Значительно теряют прочность во влажном состоянии ткани из волокон:

а) животного происхождения, б) растительного происхождения, в) синтетических

Вопрос № 6	Вариант а	Вариант б	Вариант в
Ответ:	X		

7. Какую ткань изготавливают из волокна животного происхождения:

а) лавсан, б) кашемир, в) ситец, г) батист

Вопрос № 7	Вариант а	Вариант б	Вариант в	Вариант г
Ответ:			X	

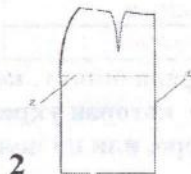
8. Что можно изменить с помощью моделирования?

а) размер изделия, б) фасон изделия, в) цвет изделия

Вопрос № 8	Вариант а	Вариант б	Вариант в
Ответ:		X	

9. Назовите линии 1 и 2 на чертеже:

1



2

Вопрос № 9	Линия 1	Линия 2
Ответ:	<i>слитая середина</i>	<i>слитая середина</i>

10. Мерки снимают с человека, стоящего прямо, имеющего фигуру без ярко-выраженных изгибов:

а) не имеет значения, б) с обеих, в) в правой стороны, г) с левой стороны

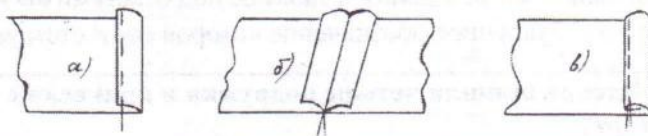
Вопрос № 10	Вариант а	Вариант б	Вариант в	Вариант г
Ответ:			<input checked="" type="checkbox"/>	

11. С какой стороны должен падать свет при работе на швейной машине?

а) с левой стороны, б) с правой стороны в) не имеет значения.

Вопрос № 11	Вариант а	Вариант б	Вариант в
Ответ:	<input checked="" type="checkbox"/>		

12. Обработка линии бока прямой юбки производится швом, изображенным на рисунке:



Вопрос № 12	Вариант а	Вариант б	Вариант в
Ответ:	<input checked="" type="checkbox"/>		

13. К меркам не относится:

а) полуобхват талии, б) полуобхват бедер, в) длина изделия, г) ширина изделия

Вопрос № 13	Вариант а	Вариант б	Вариант в	Вариант г
Ответ:				<input checked="" type="checkbox"/>

14. Раскрой ткани швейного изделия производится по...

а) линии припуска, б) линии контура выкройки, в) произвольно

Вопрос № 14	Вариант а	Вариант б	Вариант в
Ответ:	<input checked="" type="checkbox"/>		

15. Для чего необходим сметочный шов?

а) для отделки изделия, б) для временного соединения деталей кроя, в) для окончательного соединения деталей

Вопрос № 15	Вариант а	Вариант б	Вариант в
Ответ:		<input checked="" type="checkbox"/>	

16. Какую нить в ткани можно определить по натяжению, по звуку, по кромке?

Вопрос № 16	
Ответ:	<i>Шерсть</i>

17. В результате технического прогресса исчезла одна из перечисленных ниже профессий, человека заменил автомат. Какая? а) повар, б) автомеханик, в) прачка, г) портной.

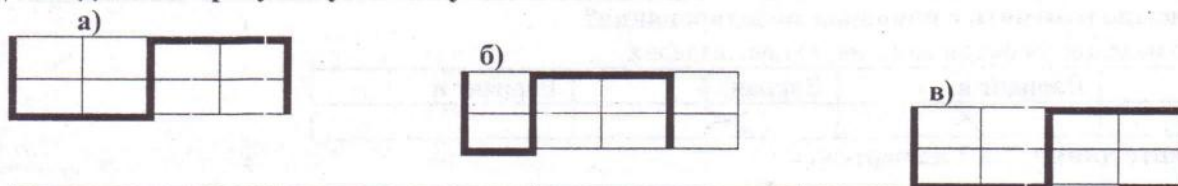
Вопрос № 17	Вариант а	Вариант б	Вариант в	Вариант г
Ответ:			<input checked="" type="checkbox"/>	

18. Модельеры-конструкторы используют определенные правила для обозначения мерок. Как модельер-конструктор одежды для животных обозначит мерку «обхват лапы»?

а) Дл, б) Ол, в) Он, г) Сл



Вопрос № 18	Вариант а	Вариант б	Вариант в	Вариант г
Ответ:		<input checked="" type="checkbox"/>		

19. На уроке технологии ученица использовала следующий алгоритм из стрелок для орнамента вышивки: ↓↓ → → ↑↑ → → ↓↓ Какой рисунок у нее получился?



Вопрос № 19	Вариант а	Вариант б	Вариант в
Ответ:	<input checked="" type="checkbox"/>		

20. Девочки выбирали шляпы для карнавала. Наташа выбрала шляпу, которая по форме не была треугольной. Василиса давно мечтала о шляпке, которая украшена бантами и лентами. Настя пробурчала: «В этой шляпе я похожа или Пьеро, или на волшебницу». Какую шляпу выбрала Наташа:

Вопрос № 20	Вариант а	Вариант б	Вариант в
			
Ответ:		X	

Практическая работа

Задание 1. Нарисуйте не менее 5 вариантов эскизов сувенирных изделий, которые Вы можете изготовить в школьной мастерской. Свои мысли оформите в виде звездочки-обдумывания.

Количество баллов – 20 (по 4 балла за каждый эскиз)

Задание 2. Зарисуйте 5 различных моделей фартуков на основе конструкции фартука с нагрудником. Можете уменьшать, увеличивать детали основы, делить их на части, использовать дополнительные детали: оборки, воланы, функциональные детали, различные виды отделки и т.д.



Количество баллов – 20 (по 4 балла за каждую модель)


20 →
 см.
 на обороте

Практическая работа Задание №1

5

* Тергачка - не замесивший
и всегда лучший подарок.
Можно предложить как
сувенир.

1



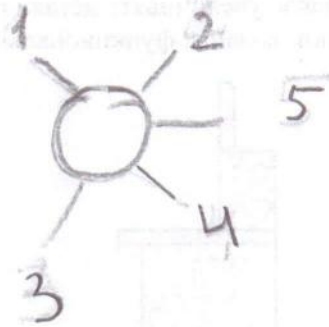
2



* Глиняная игрушка -
грубая и мягкая
вещь. Прекрасный
сувенир и легко
сгибается.

10

3



4



ФИО Матвеева Анна Александровна 8-9 класс ФИО учителя Федунева Изабелла Александровна
Класс 8 А
МБОУ «Средняя школа города Багратионовска»
Дата 18.10.18 106

Тестовые задания

На выполнение тестовых заданий олимпиады по технологии отводится 45 минут.

Работа включает двадцать заданий. К каждому заданию дается несколько ответов, из которых только один правильный.

За каждое верно выполненное задание начисляется один балл. Баллы, полученные за все выполненные задания, суммируются. Постарайтесь выполнить как можно больше заданий и набрать как можно больше баллов.

При выполнении заданий в таблице под ответами выполняемого вами задания (1 – 20) поставьте знак «x» в клеточку, буквенное обозначение которой соответствует букве выбранного вами ответа

1. Какой продукт не нужен для приготовления сырников:

- а) творог; б) мука пшеничная; в) яйцо сырое; г) сыр.

Вопрос № 1	Вариант а	Вариант б	Вариант в	Вариант г
Ответ:				✓

2. В школе скоро будет праздник, посвященный окончанию I четверти. Твой класс отвечает за фуршет для 7-8 классов. В 7 «А» учится 27 человек, в 7 «Б» - 24 человека, в 8«А» - 23 человека, в 8 «Б» -25 человек, еще вы пригласили учителей (17 человек). Тебе поручили купить красивые салфетки. Сколько пачек нужно, если в пачке 25 салфеток, вы планируете по 2салфетки на человека, придут все ученики и приглашенные учителя

- а) 5; б) 9; в) 10; г) 15.

Вопрос № 2	Вариант а	Вариант б	Вариант в	Вариант г
Ответ:		✓		

3. В результате технического прогресса исчезла одна из перечисленных ниже профессий, человека заменил автомат. Какая?

- а) повар; б) автомеханик; в) прачка; г) портной.

Вопрос № 3	Вариант а	Вариант б	Вариант в	Вариант г
Ответ:			✓	

4. Какой из перечисленных продуктов является кисломолочным:

- а) кефир; б) масло сливочное; в) джем. г) майонез;

Вопрос № 4	Вариант а	Вариант б	Вариант в	Вариант г
Ответ:	✓			

5. Даны четыре вида бусин – темные треугольные, светлые квадратные, темные и светлые круглые. Таня решила собрать бусы по следующему рисунку:




Какая бусина будет следующей в бусах.

- а) светлая квадратная б) светлая круглая в) темная треугольная г) темная круглая

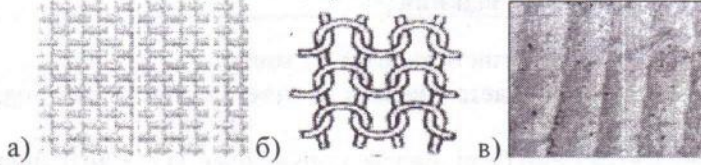
Вопрос № 5	Вариант а	Вариант б	Вариант в	Вариант г
Ответ:				✓

6. Какому условному обозначению соответствует накладной шов:



Вопрос № 6	Вариант а	Вариант б	Вариант в	Вариант г
Ответ:			✓	

7. Какой из материалов, представленных на рисунках, называется трикотажным полотном:



Вопрос № 7	Вариант а	Вариант б	Вариант в
Ответ:			✓

8. Из волокон какого происхождения изготавливают шелковые ткани?

- а) растительного; б) искусственного; в) животного; г) минерального.

Вопрос № 8	Вариант а	Вариант б	Вариант в	Вариант г
Ответ:			✓	

9. Уменьшение размеров ткани под действием тепла и влаги называется:

- а) прочность; б) осыпаемость; в) усадка.

Вопрос № 9	Вариант а	Вариант б	Вариант в
Ответ:			✓

10. Выберите самые тонкие нитки из предложенного списка:

- а) № 80 б) № 40 в) № 60 г) № 10

Вопрос № 8	Вариант а	Вариант б	Вариант в	Вариант г
Ответ:	✓			

11. К основным горизонтальным линиям фигуры относят:

- а) линию шеи, середины переда, линию низа; б) линию талии, груди, середины спинки; в) линию шеи, бедер, низа.

Вопрос № 11	Вариант а	Вариант б	Вариант в
Ответ:		✓	

12. Какой масштаб имеет линейка закройщика:

- а) М 1:1 б) М 1:2 в) М 1:4 г) М 1:10

Вопрос № 12	Вариант а	Вариант б	Вариант в	Вариант г
Ответ:			✓	

13. По какой стороне фигуры снимают мерки:

- а) по левой; б) по правой; в) по обеим; г) не имеет значения.

Вопрос № 13	Вариант а	Вариант б	Вариант в	Вариант г
Ответ:			✓	

14. Что такое прибавка:

- а) припуск на швы; б) дополнительная величина на свободу облегания швейного изделия; в) увеличение размера при измерении.

Вопрос № 14	Вариант а	Вариант б	Вариант в
Ответ:	✓		

15. К какой группе швейных изделий относится ночная сорочка:

- а) плечевые; б) поясные.

Вопрос № 15	Вариант а	Вариант б
Ответ:	✓	

16. Указать ткань, волокна которой имеют растительное происхождение:

- а) хлопок; б) вискоза; в) шерсть;

Вопрос № 16	Вариант а	Вариант б	Вариант в
Ответ:	✓		

17. По рисунку определите вид рубахи:



- а) понева;
- б) косоворотка;
- в) зипун;

Вопрос № 17	Вариант а	Вариант б	Вариант в
Ответ:			

18. К гигиеническим свойствам тканей относятся:

- а) теплозащитность;
- б) гигроскопичность;
- в) прочность.

Вопрос № 18	Вариант а	Вариант б	Вариант в
Ответ:			

19. В марте цена товара была повышена на 10%, а в июне снижена на 10%. Как изменилась цена товара?

- а) повысилась;
- б) снизилась;
- в) не изменилась.

Вопрос № 20	Вариант а	Вариант б	Вариант в
Ответ:			

20. К какой конструкции по крою относится данная юбка?

- а) клинневая;
- б) прямая;
- в) коническая.




Вопрос № 19	Вариант а	Вариант б	Вариант в
Ответ:			

Практическая работа

Задание 1. Нарисуйте не менее 5 вариантов эскизов сувенирных изделий, которые Вы можете изготовить в школьной мастерской. Свои мысли оформите в виде звездочки-обдумывания.

Количество баллов – 20 (по 4 балла за каждый эскиз)

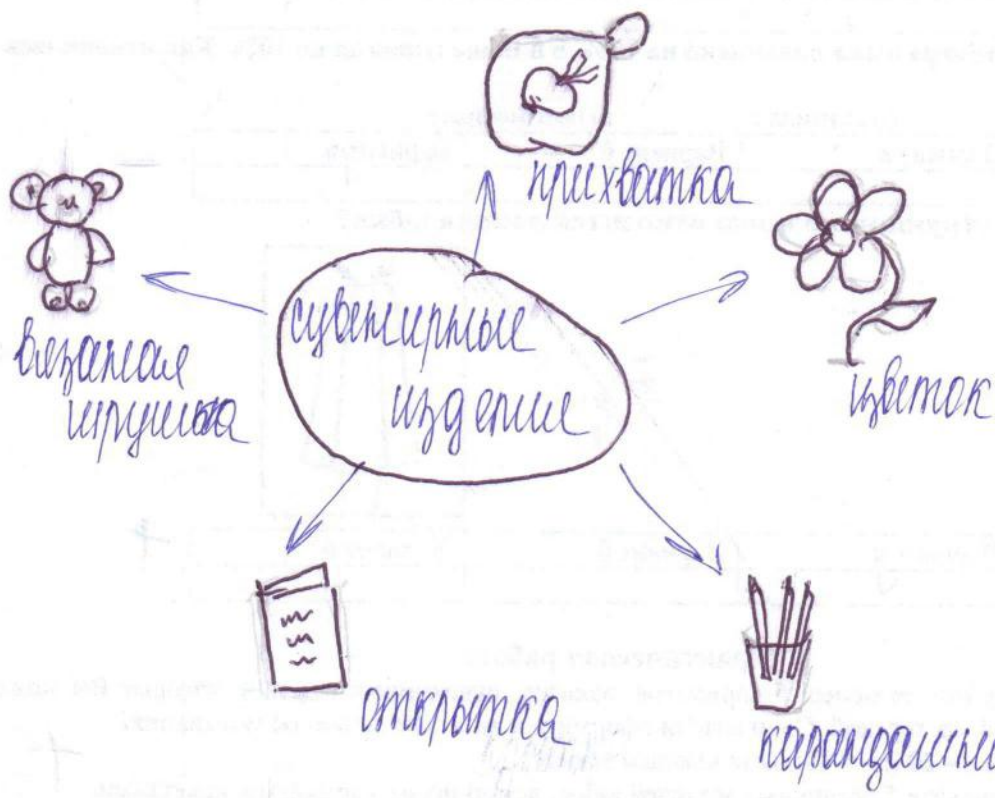
Задание 2. Зарисуйте 5 различных моделей юбок, дополнив их карманами, кокетками, рельефами, складками, оборками.



Количество баллов – 20 (по 4 балла за каждую модель)

Сил. кг

обороте



20

20

**Всероссийская олимпиада школьников по технологии /школьный этап/, 2018-19г.
«Культура и декоративно-прикладное творчество»**

10-11 класс

ФИО Панишова Анна Андреевна
 Класс 10 "А"
 МБОУ «Средняя школа города Багратионовска»
 Дата 18.10.18

ФИО учителя Федулова Н.А.

114

Тестовые задания

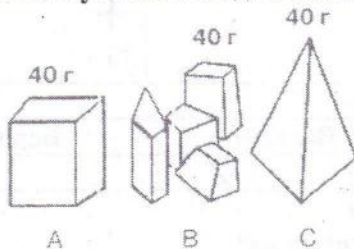
На выполнение тестовых заданий олимпиады по технологии отводится 60 мин. Работа включает тридцать пять заданий. К большинству заданий дается несколько ответов, из которых только один правильный. За каждое верно выполненное задание начисляется один балл. Баллы, полученные за все выполненные задания, суммируются. Постарайтесь выполнить как можно больше заданий и набрать как можно больше баллов. При выполнении заданий в таблице под ответами выполняемого вами задания (1 – 35) поставьте знак « x » в клеточку, буквенное обозначение которой соответствует букве выбранного вами ответа

1. Какое из перечисленных правил не относится к правилам поведения за столом:

- а) на стуле сидеть прямо; б) есть и пить следует бесшумно;
 в) жевать с закрытым ртом; г) локти ставить на стол.

Вопрос № 1	Вариант а	Вариант б	Вариант в	Вариант г
Ответ:				✓

2. Какими кубиками льда можно быстрее охладить стакан воды:



Вопрос № 2	Вариант А	Вариант В	Вариант С
Ответ:		✓	

3. В школе скоро будет праздник, посвященный окончанию I четверти. Твой класс отвечает за стол для 10-11 классов. В 10 «А» учатся 27 человек, в 10 «Б» - 24 человека, в 11 «А» - 23 человека, в 11 «Б» - 25 человек, еще вы пригласили учителей (17 человек). Тебе поручили купить красивые салфетки. Сколько пачек нужно, если в пачке 25 салфеток, вы планируете по 2 салфетки на человека, придут все ученики и приглашенные учителя

- а) 5; б) 9; в) 10; г) 15.

Вопрос № 3	Вариант а	Вариант б	Вариант в	Вариант г
Ответ:			✓	

4. Для максимального сохранения в овощах минеральных солей их:

- а) варят в воде; б) варят в кожуре; в) варят на пару; г) запекают в духовом шкафу.

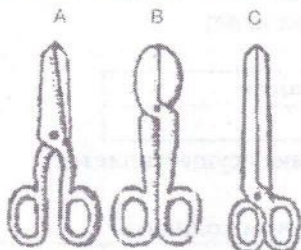
Вопрос № 4	Вариант а	Вариант б	Вариант в	Вариант г
Ответ:			✓	

5. Какое действие замедляет биохимические процессы обмена веществ:

- а) сушка; б) охлаждение; в) замораживание; г) засолка.

Вопрос № 5	Вариант а	Вариант б	Вариант в	Вариант г
Ответ:	✓			

6. Какими ножницами легче кроить толстую ткань:



Вопрос № 4	Вариант А	Вариант В	Вариант С
Ответ:	✓		

7. Из приведенного набора пищевых продуктов (рыба, масло растительное, мука пшеничная, лимон, зелень, рис, масло сливочное) можно приготовить:

- а) рыбу, жаренную во фритюре; б) рыбу отварную с гарниром;
в) рыбу жареную с гарниром; г) салат рыбный.

Вопрос № 7	Вариант а	Вариант б	Вариант в	Вариант г
Ответ:			✓	

8. Российский император Петр I приказал дворянам пить этот напиток. Какой?

- а) чай; б) кофе; в) какао; г) молоко.

Вопрос № 8	Вариант а	Вариант б	Вариант в	Вариант г
Ответ:	✓			

9. Перед началом обеда салфетку на колени кладут:

- а) полностью развернутой; в) сложенной вдвое с уравненными краями;
б) сложенной по диагонали; г) сложенной вдвое с верхней частью короче нижней.

Вопрос № 9	Вариант а	Вариант б	Вариант в	Вариант г
Ответ:				✓

10. Из чего изготавливается крупа:

- а) из бобовых; б) из зерновых культур; в) из питательных веществ; г) из муки.

Вопрос № 10	Вариант а	Вариант б	Вариант в	Вариант г
Ответ:		✓		

11. Какое из условных обозначений является операцией полустолбик при вязании крючком:

Условные обозначения			
○	≠	∨	+
а)	б)	в)	г)

Вопрос № 11	Вариант а	Вариант б	Вариант в	Вариант г
Ответ:			✓	

12. Шелковые ткани изготавливаются из волокон:

- а) растительного происхождения; б) искусственных;
в) животного происхождения; г) минеральных.

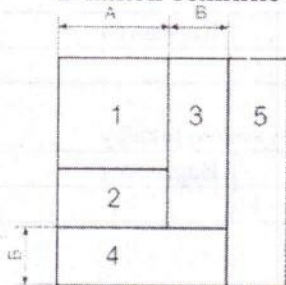
Вопрос № 12	Вариант а	Вариант б	Вариант в	Вариант г
Ответ:			✓	

13. Каким видом переплетения нитей вырабатываются самые прочные ткани:

- а) атласным; б) саржевым; в) полотняным; г) сатиновым.

Вопрос № 13	Вариант а	Вариант б	Вариант в	Вариант г
Ответ:				✓

14. В какой технике на рисунке изображена схема сборки прихватки:



- а) пэчворк; б) квиллинг; в) декупаж; г) канзаши.

Вопрос № 14	Вариант а	Вариант б	Вариант в	Вариант г
Ответ:	✓			

15. Причина пропуска стежков при работе на швейной машине может быть:

- а) сильное натяжение верхней нити; б) погнутая или затупленная игла;
в) несоответствие номера иглы номеру нити.

Вопрос № 15	Вариант а	Вариант б	Вариант в
Ответ:		✓	

16. Регулировка натяжения нижней нити в швейной машине осуществляется:

- а) нитепритягивателем; в) регулятором натяжения нижней нити;
б) регулятором прижима лапки; г) регулировочным винтом на шпульном колпачке.

Вопрос № 16	Вариант а	Вариант б	Вариант в	Вариант г
Ответ:				✓

17. Деталь ткацкого станка, которая прибивает к опушке уточную нить, называется:

- а) ремизка; б) бердо; в) челнок; г) батан.

Вопрос № 17	Вариант а	Вариант б ✓	Вариант в	Вариант г
Ответ:				

18. Какая мерка определяет размер плечевого изделия:

- а) Сш; б) Сг; в) Ст; г) Диз;

Вопрос № 18	Вариант а	Вариант б ✓	Вариант в	Вариант г
Ответ:				

19. Какой из рисунков по конструкции кроя относится к прямой юбке:



Вопрос № 19	Вариант а	Вариант б ✓	Вариант в
Ответ:			

20. Рассчитайте сумму выточек по талии в прямой юбке для фигуры с мерками Ст = 39,0 см; Сб = 53,0 см; Пт = 1,0 см; Пб = 2,0 см:

- а) 15 см; б) 20 см; в) 25 см; г) 18 см.

Вопрос № 20	Вариант а	Вариант б	Вариант в ✓	Вариант г
Ответ:				

21. Как рассчитать ширину юбки:

- а) Дст; б) Диз; в) Ст + Пт; г) Сб + Пб.

Вопрос № 21	Вариант а	Вариант б	Вариант в	Вариант г ✓
Ответ:				

22. Для чего служит техническая прибавка к чертежу изделия:

- а) для обеспечения припуска на швы; б) для увеличения размера при измерении; в) для создания силуэта изделия; г) для обеспечения свободы движения, а также наличия воздушной прослойки для регулирования теплообмена.

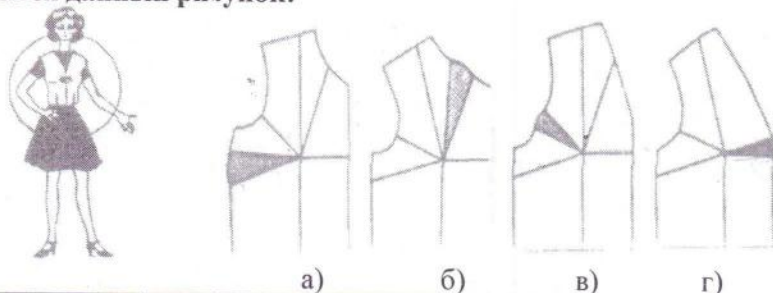
Вопрос № 22	Вариант а	Вариант б	Вариант в	Вариант г ✓
Ответ:				

23. При переносе основной выточки ее вершина:

- а) переносится вместе с выточкой; б) переносится не более чем на 1 см.; в) переносится не более чем на 2 см.; г) остается на месте.

Вопрос № 23	Вариант а	Вариант б	Вариант в	Вариант г ✓
Ответ:				

24. По положению основной выточки на рисунке определите, к какому из чертежей выкройки относится данный рисунок:



Вопрос № 24	Вариант а	Вариант б	Вариант в	Вариант г
Ответ:				

25. Даны четыре вида бусин: темные треугольные, светлые квадратные, темные и светлые круглые. Таня решила собрать бусы по следующему рисунку:



Какая бусина будет следующей в бусах?

- а) светлая квадратная б) светлая круглая
в) темная треугольная г) темная круглая

Вопрос № 15	Вариант а	Вариант б	Вариант в	Вариант г ✓
Ответ:				

26. Косую обтачку выкраивают:

а) по долевой нити;

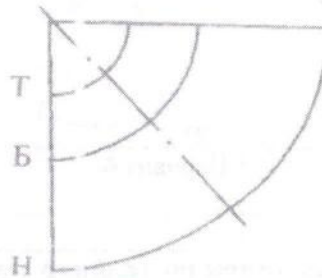
в) под углом 45 градусов к долевой нити;

б) под углом 30 градусов к долевой нити;

г) по поперечной нити.

Вопрос № 26	Вариант а	Вариант б	Вариант в	Вариант г
Ответ:	✓			


27. Какую линию на чертеже обозначает буква Т: а) линия талии; б) линия бедер; в) линия низа.



Вопрос № 27	Вариант а	Вариант б	Вариант в
Ответ:	✓		

28. На уроке технологии ученица использовала следующий алгоритм из стрелок для орнамента вышивки: ↓↓→→↑↑→→↓↓. Какой рисунок у нее получился?

а)



б)



в)



Вопрос № 28	Вариант а	Вариант б	Вариант в
Ответ:	✓		

29. Какое из перечисленных требований не относится к правилам электробезопасности:

- а) включать и выключать электроприборы сухими руками;
- б) не оставлять включенными электроприборы без присмотра;
- в) соединительные провода не должны касаться нагревательной поверхности;
- г) снимать показания со счетчика;
- д) нельзя пользоваться технически неисправными электроприборами.

Вопрос № 29	Вариант а	Вариант б	Вариант в	Вариант г	Вариант д
Ответ:				✓	

30. Первые две цифры штрихового кода потребительского товара обозначают:

- а) предприятие - изготовителя;
- б) страну изготовления товара;
- в) наименование товара;
- г) контрольные цифры.

Вопрос № 30	Вариант а	Вариант б	Вариант в	Вариант г
Ответ:		✓		

31. Для периода экономического подъема не характерно:

- а) увеличение безработицы;
- б) повышение производительности труда;
- в) инвестиции в образование.

Вопрос № 31	Вариант а	Вариант б	Вариант в
Ответ:		✓	

32. В марте цена товара была повышена на 10%, а в июне снижена на 10%. Как изменилась цена товара:

- а) повысилась;
- б) снизилась;
- в) не изменилась.

Вопрос № 32	Вариант а	Вариант б	Вариант в
Ответ:			✓

33. Какой тип профессии относится к следующим профессиям: учитель, менеджер, официант, юрист:

- а) Человек — техника;
- б) Человек — человек;
- в) Человек — художественный образ.

Вопрос № 33	Вариант а	Вариант б	Вариант в
Ответ:		✓	

34. За месяц фирма производит и реализует 1000 единиц товара по цене 100 рублей каждая. Чему равен годовой денежный оборот фирмы:

- а) 100 000 рублей;
- б) 200 000 рублей;
- в) 120 000 рублей.

Вопрос № 34	Вариант а	Вариант б	Вариант в
Ответ:			✓

35. Вычислить $1 \text{ мкм} + 23 \text{ мм} + 15 \text{ нм}$:

- а) 0,023001015 м;
- б) 0,12315 м;
- в) 0,0102315 м;
- г) 0,015023001 м.

Вопрос № 35	Вариант а	Вариант б	Вариант в	Вариант г
Ответ:	✓			

Практическая работа, 10-11 кл.

Задание:

Выполнить «Веселого мишку» согласно инструкционно-технологической карте.

Материалы и инструменты: - ткань (сукно, фланель, фетр);

- нитки х/б №10,40; - бусинки, бисер;

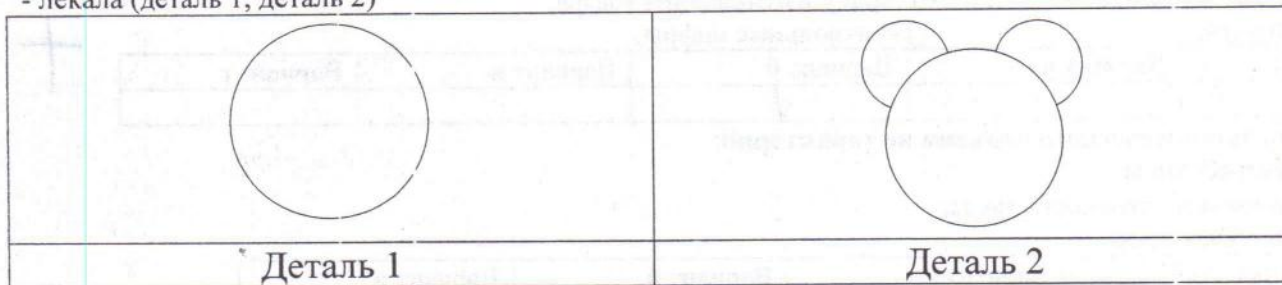
- игла;

- булавки;




- ножницы;

- мел (обмылок);

- лекала (деталь 1, деталь 2)



Инструкционно-технологическая карта

№п/п	Правила выполнения операции и технические условия	Материалы и инструменты	Изображение операции
1.	Раскроить детали изделия. 1. Наложить лекала на ткань. 2. Наколоть. 3. Обвести мелом по контуру. 4. Вырезать детали кроя строго по линии мела.	Ткань, булавки, лекала, обмылок (мел), ножницы	
2.	Соединить детали кроя. 1. Наложить деталь 1 на деталь 2. 2. Сколоть булавками. 3. Соединить детали швом «вперед иголка»	Детали кроя, булавки, игла, нитки	
3.	Обшить всё изделие петельным швом	Изделие, игла, нитки	
4.	Украсить изделие	Изделие, игла, нитки, бусинки, бисер	

ФИО Игнатьев Валерий Александрович

8-9 класс

ФИО учителя Редущова Надежда Александровна

Класс 8 "Б"

МБОУ «Средняя школа города Багратионовска»

Дата 18.10.18

Тестовые задания

На выполнение тестовых заданий олимпиады по технологии отводится 45 минут.

Работа включает двадцать заданий. К каждому заданию дается несколько ответов, из которых только один правильный.

За каждое верно выполненное задание начисляется один балл. Баллы, полученные за все выполненные задания, суммируются. Постарайтесь выполнить как можно больше заданий и набрать как можно больше баллов.

При выполнении заданий в таблице под ответами выполняемого вами задания (1 – 20) поставьте знак « x » в клеточку, буквенное обозначение которой соответствует букве выбранного вами ответа

1. Какой продукт не нужен для приготовления сырников:

- а) творог; б) мука пшеничная; в) яйцо сырое; г) сыр.

Вопрос № 1	Вариант а	Вариант б	Вариант в	Вариант г
Ответ:				✓

2. В школе скоро будет праздник, посвященный окончанию I четверти. Твой класс отвечает за фуршет для 7-8 классов. В 7 «А» учатся 27 человек, в 7 «Б» - 24 человека, в 8«А» - 23 человека, в 8 «Б» -25 человек, еще вы пригласили учителей (17 человек). Тебе поручили купить красивые салфетки.

Сколько пачек нужно, если в пачке 25 салфеток, вы планируете по 2салфетки на человека, придут все ученики и приглашенные учителя

- а) 5; б) 9; в) 10; г) 15.

Вопрос № 2	Вариант а	Вариант б	Вариант в	Вариант г
Ответ:	✓			

3. В результате технического прогресса исчезла одна из перечисленных ниже профессий, человека заменил автомат. Какая?

- а) повар; б) автомеханик; в) прачка; г) портной.

Вопрос № 3	Вариант а	Вариант б	Вариант в	Вариант г
Ответ:			✓	

4. Какой из перечисленных продуктов является кисломолочным:

- а) кефир; б) масло сливочное; в) джем. г) майонез;

Вопрос № 4	Вариант а	Вариант б	Вариант в	Вариант г
Ответ:	✓	●		

5. Даны четыре вида бусин – темные треугольные, светлые квадратные, темные и светлые круглые. Таня решила собрать бусы по следующему рисунку:




Какая бусина будет следующей в бусах.

- а) светлая квадратная б) светлая круглая в) темная треугольная г) темная круглая

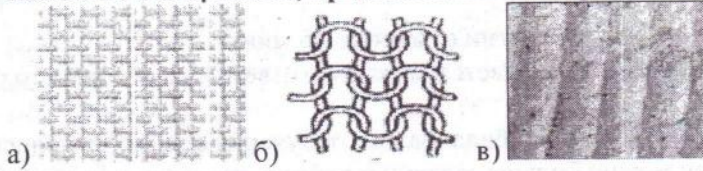
Вопрос № 5	Вариант а	Вариант б	Вариант в	Вариант г
Ответ:			✓	

6. Какому условному обозначению соответствует накладной шов:



Вопрос № 6	Вариант а	Вариант б	Вариант в	Вариант г
Ответ:		✓		

7. Какой из материалов, представленных на рисунках, называется трикотажным полотном:



Вопрос № 7	Вариант а	Вариант б	Вариант в
Ответ:			✓

8. Из волокон какого происхождения изготавливают шелковые ткани?

- а) растительного; б) искусственного; в) животного; г) минерального.

Вопрос № 8	Вариант а	Вариант б	Вариант в	Вариант г
Ответ:		✓	✓	

9. Уменьшение размеров ткани под действием тепла и влаги называется:

- а) прочность; б) осыпаемость; в) усадка.

Вопрос № 9	Вариант а	Вариант б	Вариант в
Ответ:			✓

10. Выберите самые тонкие нитки из предложенного списка:

- а) № 80 б) № 40 в) № 60 г) № 10

Вопрос № 8	Вариант а	Вариант б	Вариант в	Вариант г
Ответ:	✓			

11. К основным горизонтальным линиям фигуры относят:

- а) линию шеи, середины переда, линию низа; б) линию талии, груди, середины спинки; в) линию шеи, бедер, низа.

Вопрос № 11	Вариант а	Вариант б	Вариант в
Ответ:		✓	

12. Какой масштаб имеет линейка закройщика:

- а) М 1:1 б) М 1:2 в) М 1:4 г) М 1:10

Вопрос № 12	Вариант а	Вариант б	Вариант в	Вариант г
Ответ:			✓	

13. По какой стороне фигуры снимают мерки:

- а) по левой; б) по правой; в) по обеим; г) не имеет значения.

Вопрос № 13	Вариант а	Вариант б	Вариант в	Вариант г
Ответ:		✓		

14. Что такое прибавка:

- а) припуск на швы; б) дополнительная величина на свободу облегания швейного изделия; в) увеличение размера при измерении.

Вопрос № 14	Вариант а	Вариант б	Вариант в
Ответ:	✓		

15. К какой группе швейных изделий относится ночная сорочка:

- а) плечевые; б) поясные.

Вопрос № 15	Вариант а	Вариант б
Ответ:	✓	

16. Указать ткань, волокна которой имеют растительное происхождение:

- а) хлопок; б) вискоза; в) шерсть;

Вопрос № 16	Вариант а	Вариант б	Вариант в
Ответ:	✓		

17. По рисунку определите вид рубахи: